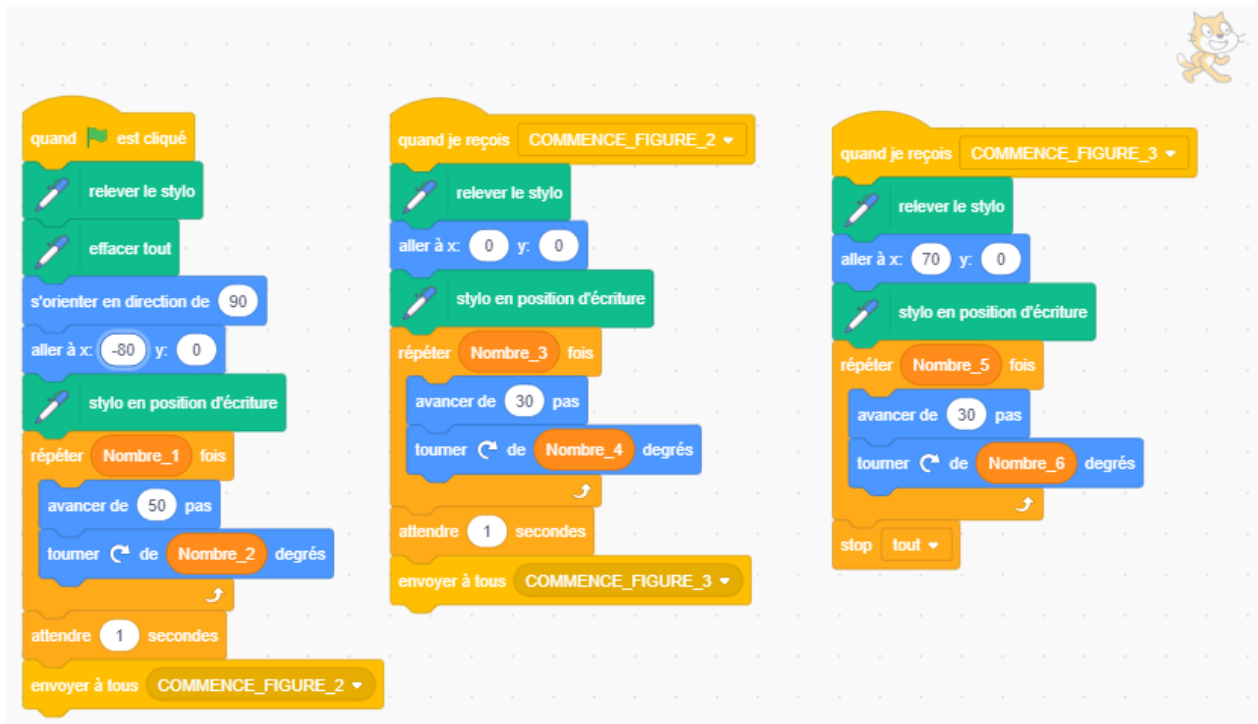


Equipe 1		Lundi	
Matières	pour le	Leçons et Devoirs	
Français	6/1	Réviser les conjugaisons	
Histoire	6/1	Répondre aux questions du document 3 page 48	
Maths	6/1	Ex 28-29-30 page 226 (Sésamath 6)	
Musique	6/1	Partitions 3 et 4 pour flûte	
Sport	13/1	Tenue de sport !	
Français	13/1	Lire le texte page 142 et répondre aux questions	
Maths	13/1	Corriger la feuille de travail sur les pentagones	
Musique	13/1	Lire les documents 5 et 7 (feuille distribuée)	

Equipe 1		Mardi	
Matières	pour le	Leçons et Devoirs	
Géographie	7/1	Préparer fond de carte Europe	
Anglais	7/1	Unit 7 : ex. 42-43 Apprendre verbes page 59	
Maths	14/1	Evaluation sur les angles. Ne pas oublier le rapporteur	
Géographie	14/1	Analyse de docs : 6-8 p 95	
Anglais	14/1	Unit 7 : ex. 59-60 Apprendre verbes page 60	
Maths	14/1	Le cours commencera exceptionnellement à 12h30	
Anglais	21/1	Evaluation sur Unit 7	
Géographie	21/1	Vocabulaire page 97	



Place les points C, D, E, F, G, H, I et J tels que :

- $\widehat{ABC} = 31^\circ$ (tracer vers le haut) et $BC = 11,3 \text{ cm}$
- $\widehat{BCD} = 121^\circ$ (tracer vers le haut) et $CD = 8,3 \text{ cm}$
- $\widehat{CDE} = 122^\circ$ (tracer à gauche) et $DE = 11,5 \text{ cm}$
- $\widehat{DEF} = 50^\circ$ (tracer vers le haut) et $EF = 7,5 \text{ cm}$
- $\widehat{EFG} = 148^\circ$ (tracer vers le bas) et $FG = 7,5 \text{ cm}$
- $\widehat{FGH} = 35^\circ$ (tracer vers le bas) et $GH = 12,8 \text{ cm}$
- $\widehat{GHI} = 125^\circ$ (tracer vers le bas) et $HI = 8,7 \text{ cm}$
- $\widehat{HIJ} = 33^\circ$ (tracer à droite) et $IJ = 6,4 \text{ cm}$

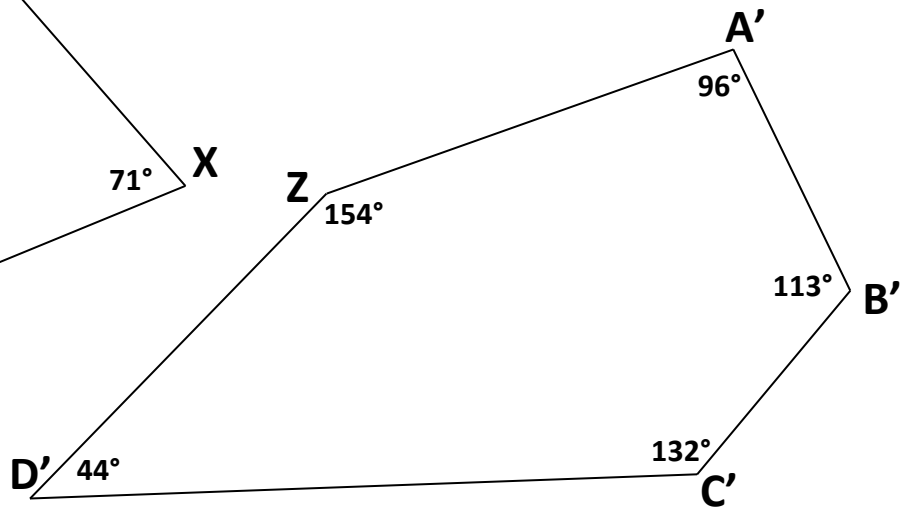
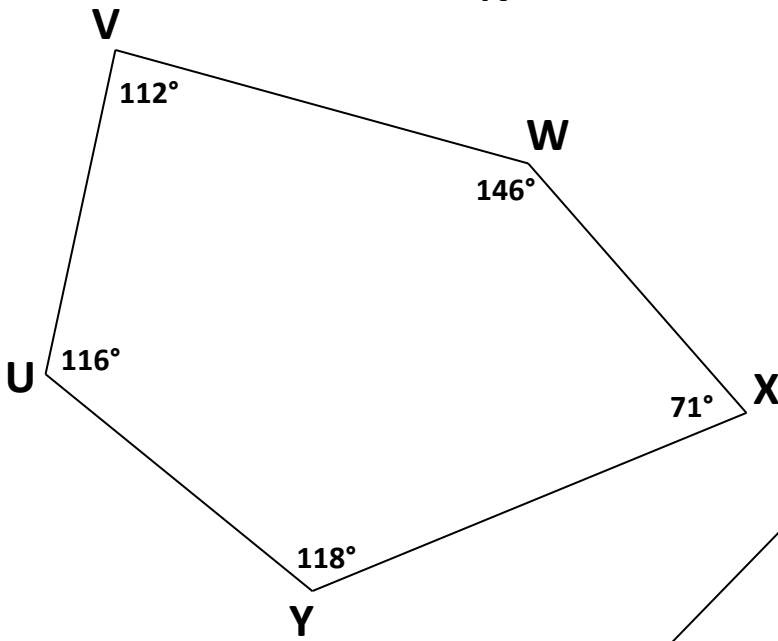
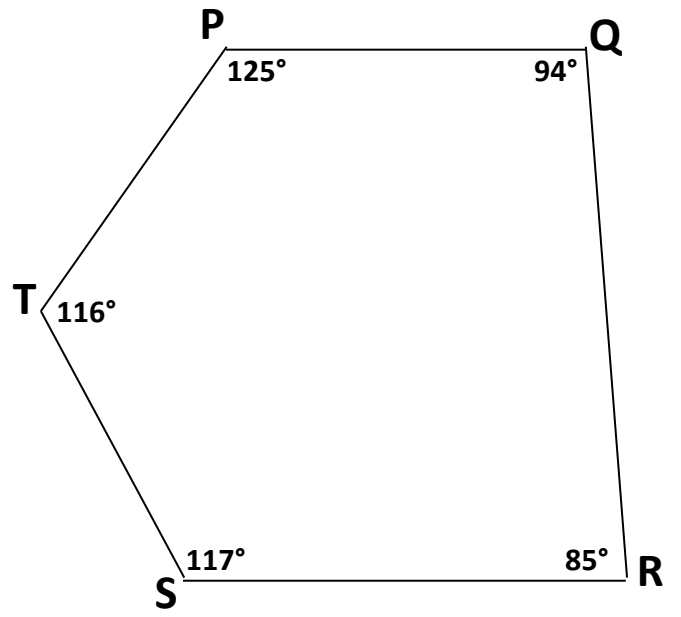
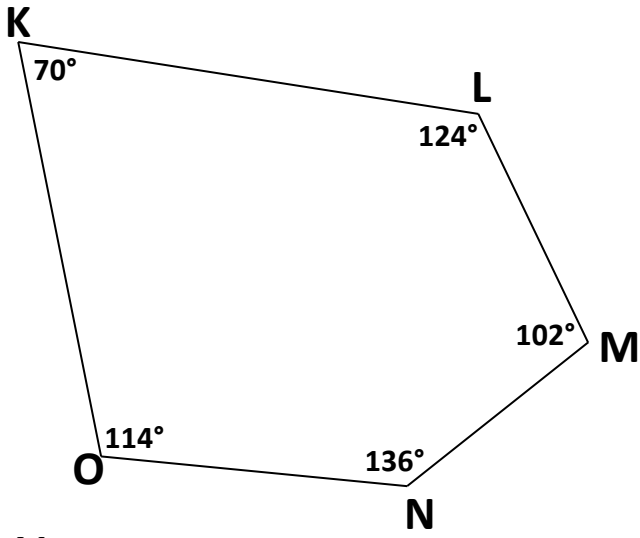
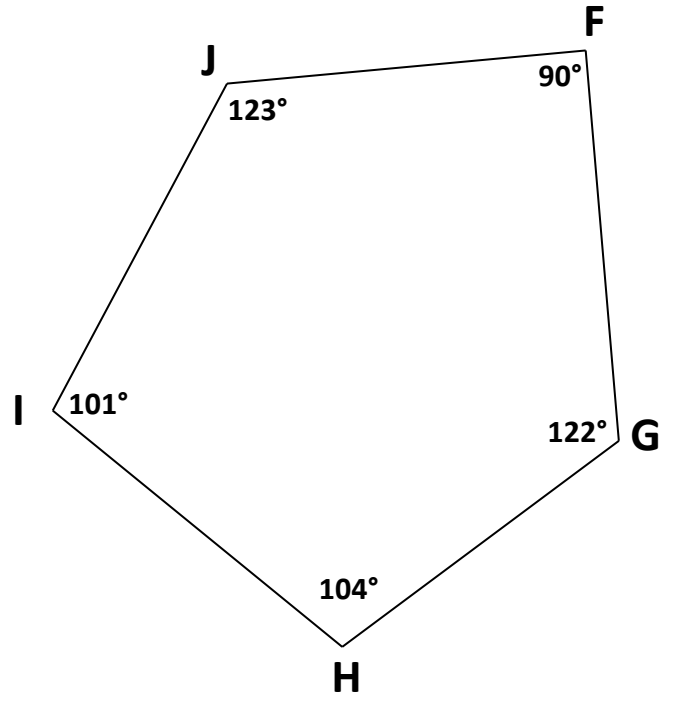
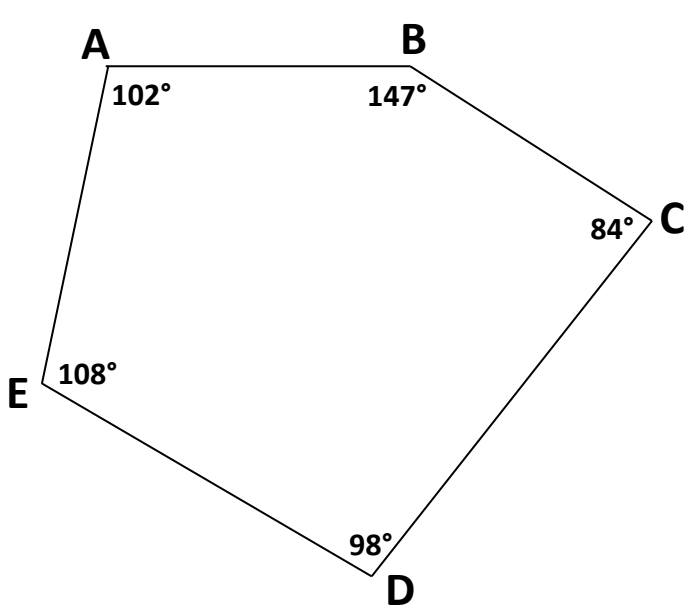
Mardi 14 janvier

Activité de début de séance

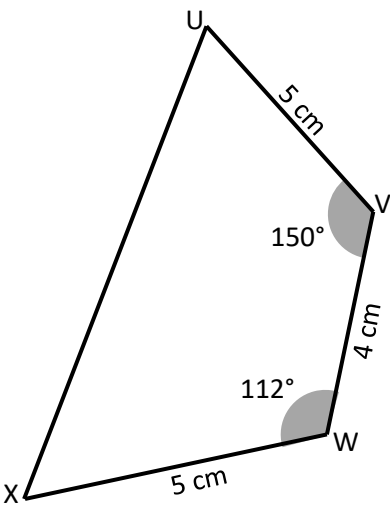
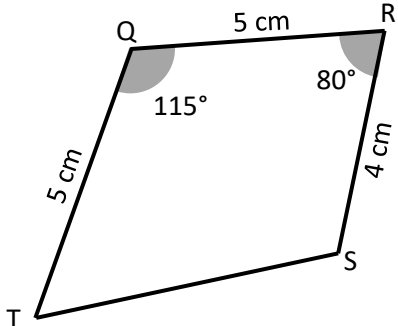
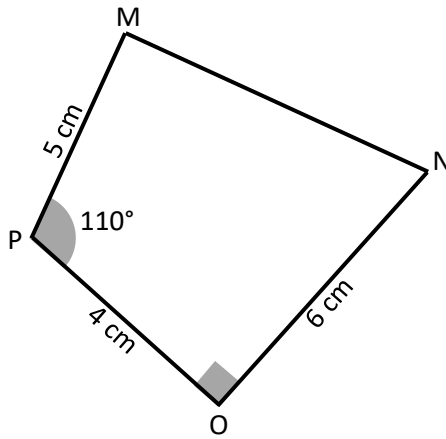
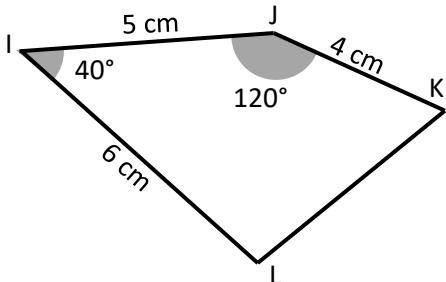
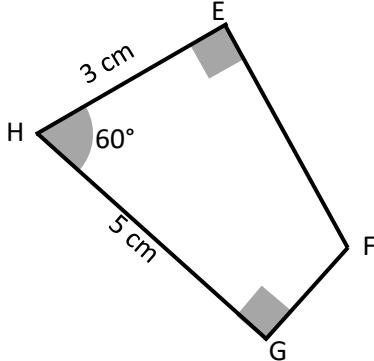
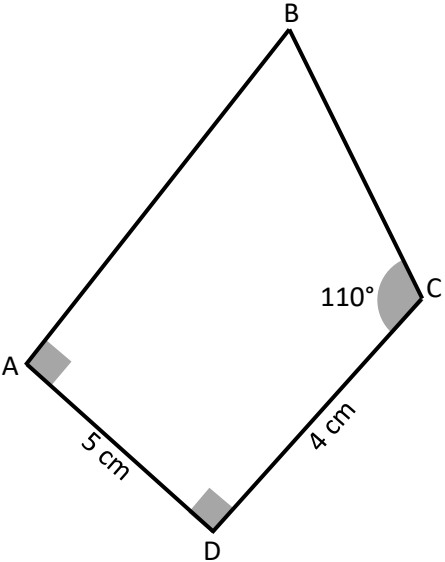
Quelle est la mesure de l'angle formé par les aiguilles de l'horloge (aiguille des heures et aiguille des minutes) ?

- Travail en groupe
- Votre réponse sera rédigée

Equipe 1

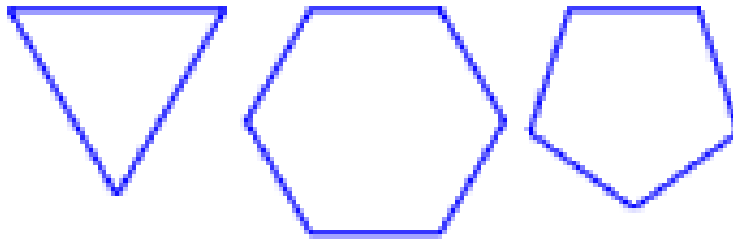


Equipe 1



Equipe 1

(Haut)

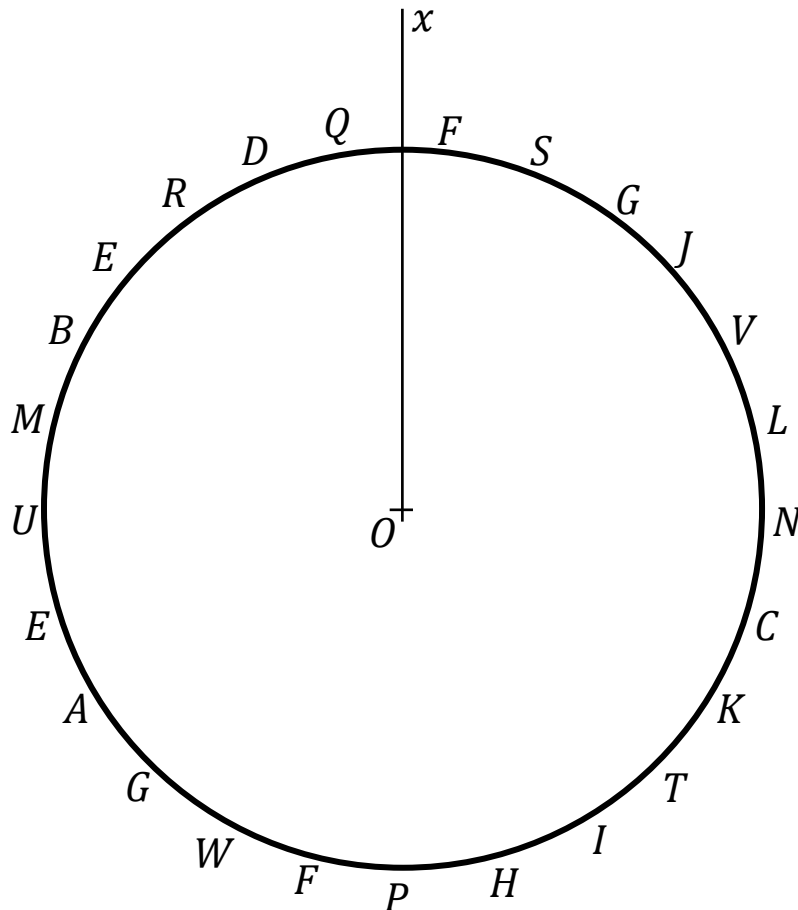


Bonjour,

Pourrais-tu donner 3 Chromebooks à l'élève qui présente ce bon.

Merci,

Jean-Yves



samedi	angle	180°	pour	avril	carré	9
devoirs	18	manuel	géométrie	évaluation	règle	le
juillet	des	calculer	segment	120°	54°	losange
360°	vendredi	15	mardi	point	plat	novembre
dans	triangle	août	obus	les	axe	pochette
rapporteur	parallèle	juin	la	livre	mercredi	6
décembre	aigu	un	même	cours	résoudre	trousse
12	cahier	équerre	maths	droit	isocèle	24
compas	construire	janvier	agenda	oublier	nul	dimanche
lundi	cercle	jeudi	une	HG	octobre	droite
février	21	rectangle	mai	90°	symétrie	arc
B × pas	12°	mars	feuille	3	× A ne	septembre

Vérifier que $AB = 12,2$ cm (la page doit être imprimée à 100% de sa taille)